



Kg2t2

تقييمات الرياضيات
للمستوى الثاني





التيرم الثاني

اعداد

ميس حكمت شلبي

(H.sh)

اكمل وانطق العدد الناقص ولون (يمكنك الكتابة ان امكن) من درس ٦١ ل ٧٠




لون الاول والخامس والثامن وابكر في ظهر الورقة شكلا باستخدام الاشكال الهندسية



الاسم /

تقييمات الرياضيات التيرم الثاني للمستوى الثاني

اكمل وانطق العدد الناقص ولون (يمكنك الكتابة ان امكن) من درس ٧١ ل ٨٠



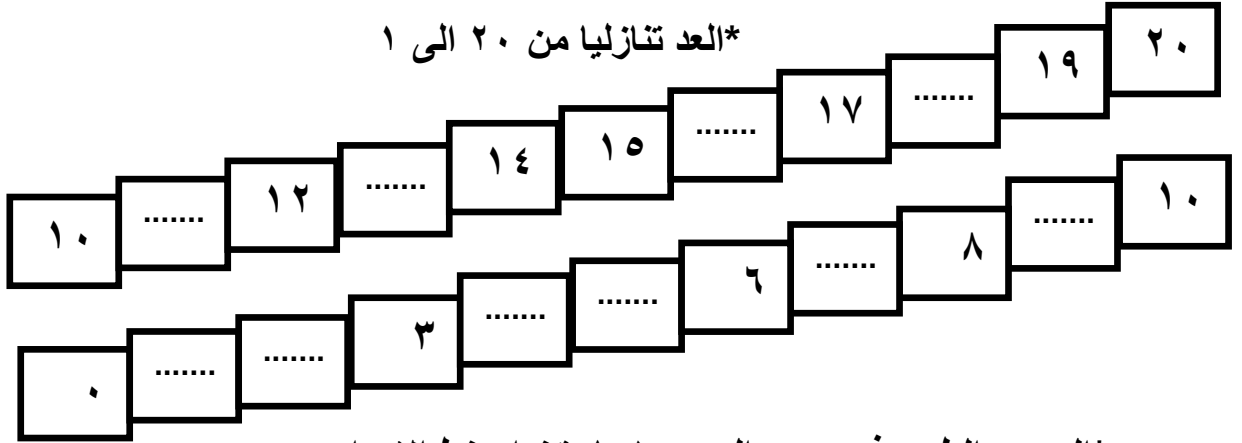
٤٨

٤٥

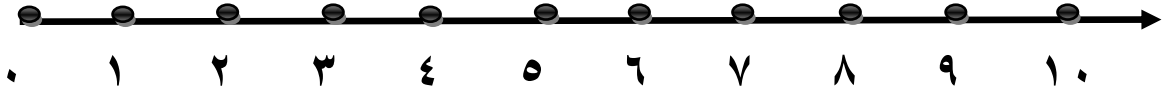
٤٢

٤٠

*العد تنازليا من ٢٠ الى ١



*الجمع والطرح في حدود العدد ١٠ باستخدام خط الاعداد



.....	=	١	+	٩	=	٢	-	٤
.....	=	٢	+	٧	=	٣	-	٦
.....	=	٣	+	٥	=	١	-	٧
.....	=	١	+	٦	=	٠	-	٥
.....	=	٣	+	٣	=	٤	-	٨
.....	=	١	+	٤	=	٥	-	٧
.....	=	٢	+	٢	=	٦	-	٩

تقييمات الرياضيات التيرم الثاني للمستوى الثاني

الاسم /


٥٨

اكمل وانطق العدد الناقص ولون (يمكنك الكتابة ان امكن) من درس ٨١ ل ٩٠

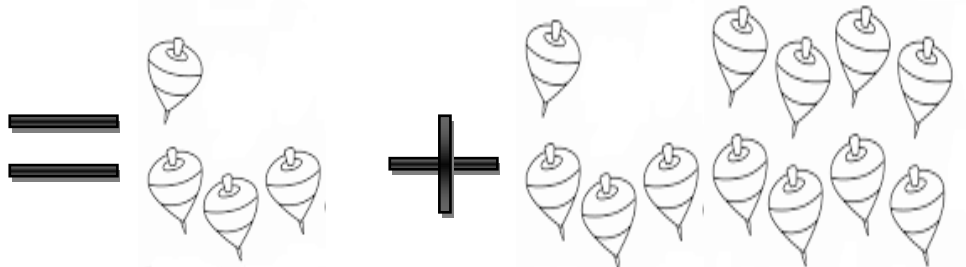
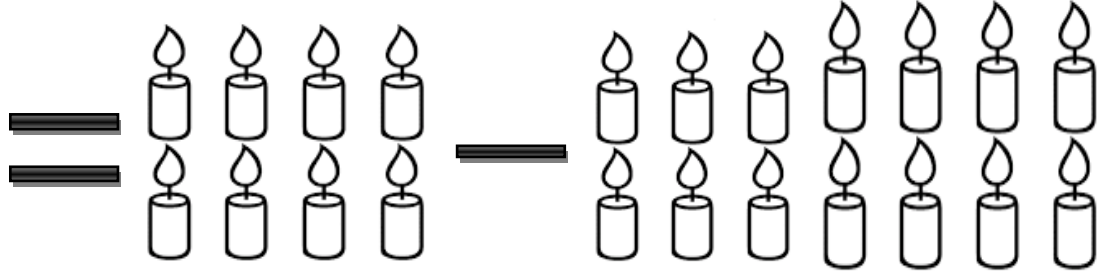
٥٥

٥٢



٥٠



*الطرح والجمع في حدود العدد ٢٠ باستخدام الاشياء والرسومات وادوات اللعب



*العد باستخدام الاوراق النقدية وتمييزها وحل مسائل جمع وطرح باستخدامها



كام خمسة ؟

.....



كام جنية ؟

.....



كام خمسة ؟

.....



(H.sh)


تقييمات الرياضيات التيرم الثاني للمستوى الثاني

الاسم /

اكمل وانطق العدد الناقص ولون (يمكنك الكتابة ان امكن) من درس ٩١ ل ١٠٠

..... ٦٨ ٦٢ ٦٥ ٦٠

..... ٧٨ ٧٢ ٧٥ ٧٠



*العد بتخطي ٥ اعداد حتى العدد ١٠٠ هيا بنا نعد سويا

٤٠ ٣٥ ٢٥ ٢٠ ١٠ ٥

٨٠ ٧٠ ٦٥ ٥٥ ٤٥

١٠٠ ٩٠

*العد باستخدام الاوراق النقدية حوط بدائرة لتكون ٥ جنية و ٨ جنيهات





(H.sh)

الاسم /

تقييمات الرياضيات التيرم الثاني للمستوى الثاني

اكمل وانطق العدد الناقص ولون (يمكنك الكتابة ان امكن) من درس ١٠١ الى ١١٠



*العد بتخطي ٥ اعداد حتى العدد ١٠٠ هيا بنا نعد سويا

٤٠	٣٠	١٥	٥
.....	٧٥	٦٥	٥٠
.....	٩٥	٨٥



هيا بنا نجمع ونطرح



.....	=	٣	+	٦	=	٢	-	٤
.....	=	٦	+	٤	=	٤	-	٥
.....	=	٢	+	٥	=	٢	-	٨
.....	=	٠	+	٨	=	٠	-	٩



الاسم /


تقييمات الرياضيات التيرم الثاني للمستوى الثاني

رتب الاعداد من الاصغر الى الاكبر من درس ١١١ ل ١٢٠

	٣	١	٤	٢	

	٦	٨	٥	٩	

	٣	١٠	٧	٥	



(< , = , >) ضع العلامة المناسبة

٦	٩
٥	٤
٤	٣
٧	٧
٨	١٠